

Adı :
Soyadı:

3. Sınıf
Hayat Bilgisi


Evimizde Hayat
Ünite Değerlendirme-2

1 Aşağıdakilerden hangileri komşuluk haklarından değildir?

- A) Hastalandığında ziyaret etmek ve yardımda bulunmak
B) Yardım istediğinde gereken yardımı yapmak
C) İhtiyacımız olan eşyayı izinsiz almak

Televizyon	Fırın
Çamaşır Makinesi	Telefon
Buzdolabı	Bulaşık Makinesi

2 Yukarıdaki tabloda evimizdeki teknolojik araçlar gösterilmiştir. Temizlik için kullanılanlar kırmızı; iletişim için kullanılanlar yeşil renge boyanırsa hangi şekil ortaya çıkar?



3 Aşağıdakilerden hangisi evimizdeki kaynakları verimli kullanmak için bizim sorumluluklarımızdan biri değildir?

- A) Banyo yaparken suyu az açmak
B) Gece yatarken lambaları kapatmak
C) Bozuk muslukları tamir etmek

1. Bulaşıkları makinede değil, elimizle yıkamalıyız.
2. Çamaşırları yıkarken makineyi doldurmalıyız.
3. Küçük odayı elektrikli süpürge ile değil, el süpürgesi ile temizlemeliyiz.
4. Su içerken buzdolabının kapağını açık bırakmalıyız.

4 Yukarıdakilerden hangilerinde kaynakların kullanılmasında bilinçli davranılmıştır?

- A) II-IV B) I - II C) II - III

5 Aşağıdaki atasözlerinden hangisi planlı olmanın önemini anlatmaktadır?

- A) Bugünün işini yarına bırakma
B) Sakla samanı, gelir zamanı
C) Bir elin nesi var, iki elin sesi var.

Şimdiki çocuklar çok şanslı.
Teknoloji çok gelişti. Biz
küçükken kendi oyuncağımızı
kendimiz yapardık. Sokakta
oynardık.



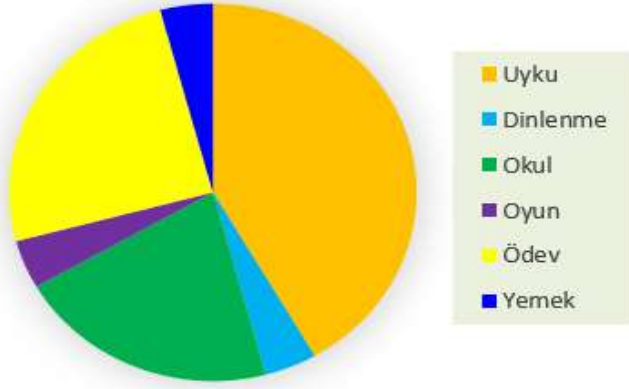
6 Aşağıdakilerden hangisi dedenin küçükken oynadığı oyunlardan değildir?

- A) Saklambaç oynamak
B) Demir çember çevirmek
C) Tablette oyun oynamak

Adı :
Soyadı:

3. Sınıf Hayat Bilgisi

Evimizde Hayat Ünite Değerlendirme-2



7 Yukarıdaki grafikte Ahmet'in bir günlük planını gösteriliyor. Ahmet en çok uyku için zaman ayırmış. Grafiğe göre hangi bilgi doğrudur?

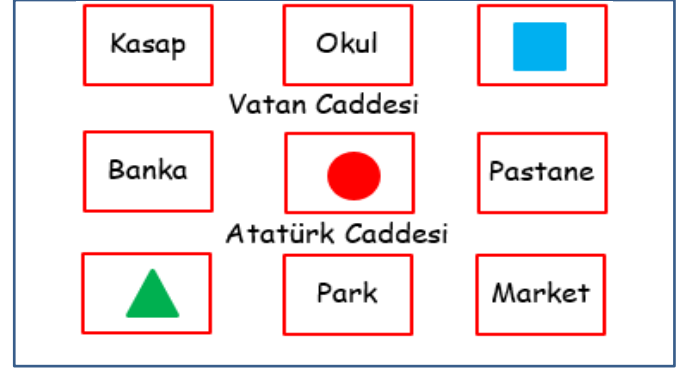
- A) Okulda geçen süre, yemek için ayrılan süreden azdır.
- B) Ödevde dinlenmeden daha fazla zaman ayırmıştır.
- C) Uykudan sonra en çok zamanı oyuna ayırmıştır.



Okuldan gelir gelmez yarım saat dinlendikten sonra bir saat ödevlerimi yaparım. Daha sonra annemle birlikte sofrayı hazırlarız. Yemekten sonra anneme sofrayı kaldırmada yardım ederim.

8 Yukarıdaki çocuk için hangi bilgi doğrudur?

- A) Sorumluluk sahibi ve planlı çalışan
- B) Yardımsever ve kaynakları iyi kullanan
- C) Çalışkan ve görgü kurallarına uyan



Cengiz'in evi Atatürk Caddesi'nin güneyindedir.

Hülya'nın evi pastanenin solunda yer alır.

Fatma'nın evi okulun doğusunda yer alır.

9 Krokiye ve verilen bilgilere göre çocukların evleri hangisinde doğru verilmiştir?

	Red Circle	Blue Square	Green Triangle
A)	Fatma	Hülya	Cengiz
B)	Hülya	Cengiz	Fatma
C)	Hülya	Fatma	Cengiz

Ekmeğin israfı sadece paramızın değil, ekmeğin yapımında çalışan binlerce kişinin emeğinin de boşa gitmesine, kaynaklarımızın azalmasına neden olur.

10 Yukarıdaki paragrafta göre hangi sonuç çıkarılamaz?

- A) Ekmeğin yapımında birçok kişi emek harcar.
- B) Artan ekmeğin değerlendirilmeliyiz.
- C) Çöpe atılan ekmeğin paramızın da çöpe gitmesine neden olur.

Adı :
Soyadı:

3. Sınıf
Hayat Bilgisi

Evimizde Hayat
Ünite Değerlendirme-2

1	A	B	<input checked="" type="radio"/> C
2	<input checked="" type="radio"/> A	B	C
3	A	B	<input checked="" type="radio"/> C
4	A	<input checked="" type="radio"/> B	C

5	<input checked="" type="radio"/> A	B	C
6	A	B	<input checked="" type="radio"/> C
7	A	<input checked="" type="radio"/> B	C
8	<input checked="" type="radio"/> A	B	C

9	A	B	<input checked="" type="radio"/> C
10	A	<input checked="" type="radio"/> B	C
11	A	B	C
12	A	B	C

13	A	B	C
14	A	B	C
15	A	B	C
16	A	B	C

1	A	B	C
2	A	B	C
3	A	B	C
4	A	B	C

5	A	B	C
6	A	B	C
7	A	B	C
8	A	B	C

9	A	B	C
10	A	B	C
11	A	B	C
12	A	B	C

13	A	B	C
14	A	B	C
15	A	B	C
16	A	B	C